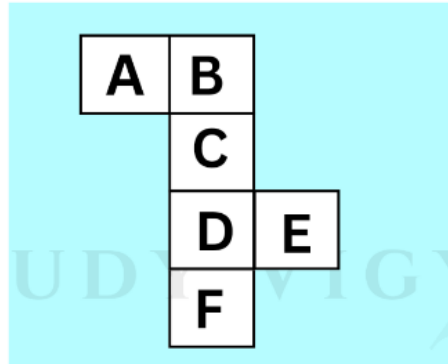


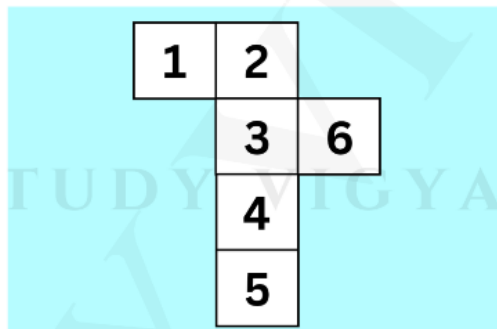
Open Dice Reasoning Questions Pdf

Q.1 दिए गए चित्र में C के विपरीत फलक ज्ञात करें?



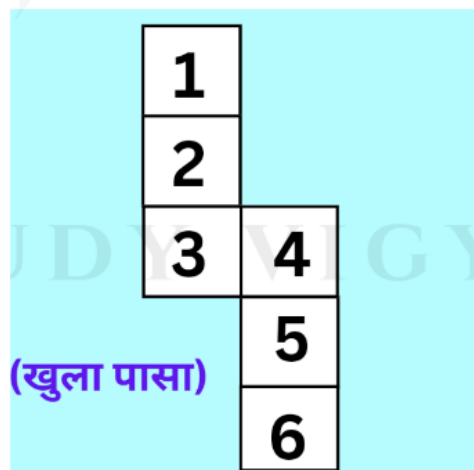
Answer: F

Q.2 दिए गए चित्र में 3 के विपरीत फलक ज्ञात करें?



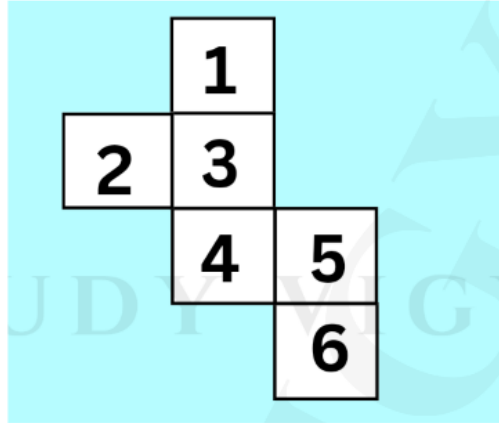
Answer: 5

Q.3 दिए गए चित्र में 1 के विपरीत फलक ज्ञात करें?



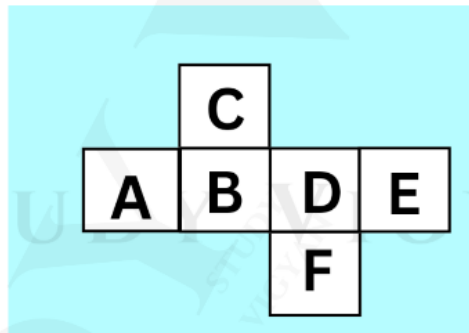
Open Dice Reasoning Questions Pdf

Q.4 दिए गए चित्र में 5 के विपरीत फलक ज्ञात करें?



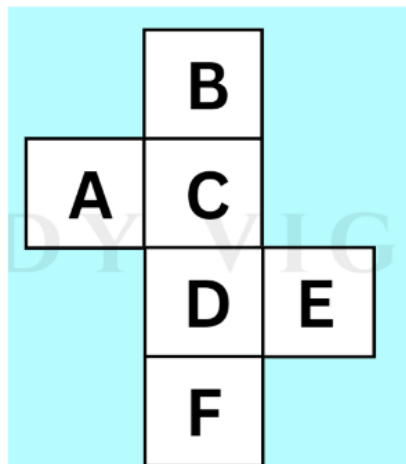
Answer: 2

Q.5 दिए गए चित्र में F के विपरीत फलक ज्ञात करें?



Answer: C

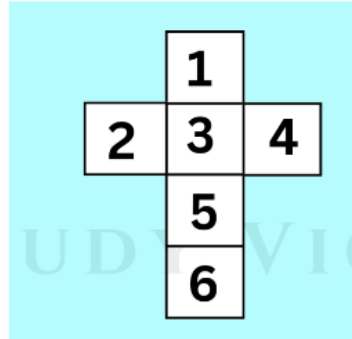
Q.6 दिए गए चित्र में B के विपरीत फलक ज्ञात करें?



Answer: D

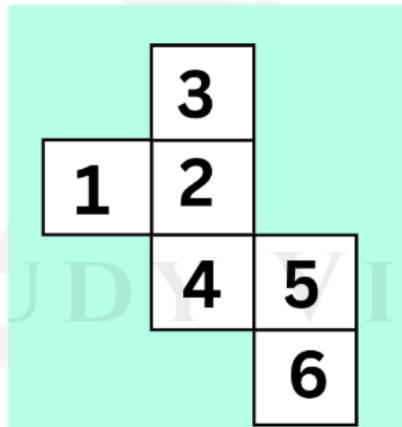
Open Dice Reasoning Questions Pdf

Q.7 दिए गए चित्र में 2 के विपरीत फलक ज्ञात करें?



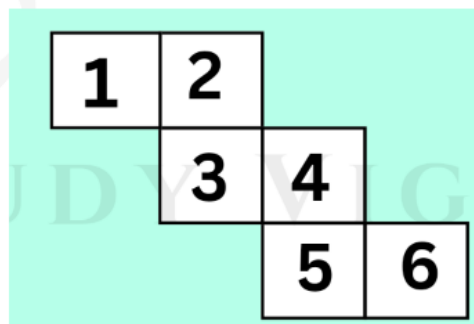
Answer: 4

Q.8 दिए गए चित्र में 1 के विपरीत फलक ज्ञात करें?



Answer: 5

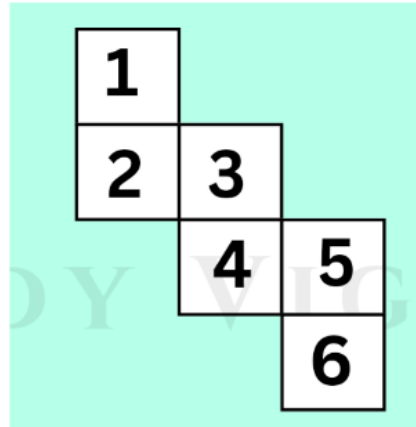
Q.9 दिए गए चित्र में 3 के विपरीत फलक ज्ञात करें?



Answer: 6

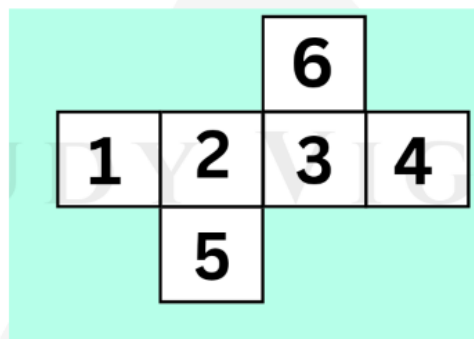
Open Dice Reasoning Questions Pdf

Q.10 दिए गए चित्र में 4 के विपरीत फलक ज्ञात करें?



Answer: 1

Q.11 दिए गए चित्र में 1 के विपरीत फलक ज्ञात करें?



Answer: 3